

# 成城中学校入学試験問題(第3回)

## 社 会

(配点60点)

令和5年2月5日 11時10分 — 11時40分

### 注 意

- 1 試験開始の合図があるまで、この冊子を開いてはいけません。
- 2 問題冊子は全部で7ページあります。
- 3 解答には、必ず黒色えんぴつ（または黒色シャープペンシル）を使用しなさい。
- 4 解答は、必ず解答用紙の指定の欄に記入しなさい。
- 5 問題冊子、解答用紙それぞれの指定の欄に、受験番号と座席番号を記入しなさい。
- 6 解答用紙の解答欄に、関係のない文字、記号などを記入してはいけません。また、解答用紙の余白及び裏面には、何も書いてはいけません。
- 7 問題冊子の余白は、下書きに使用しても構いませんが、どのページも切り離してはいけません。
- 8 問題冊子、解答用紙はどちらも持ち帰ってはいけません。試験終了後、必ず提出しなさい。

受 験 番 号				

座 席 番 号			

(いずれも試験開始の合図の後に記入)

1. 次の問いに答えなさい。

問1. 大化の改新によって、土地と税の制度が整えられた。班田収授法の内容として誤っているものを、1～4から一つ選び、番号で答えなさい。

1. 口分田の売買を許した。
2. 戸籍を6年ごとに作成した。
3. 死亡すると、口分田は国に返納しなければならなかった。
4. 6歳以上の男女に口分田を与えた。

問2. 朝廷は開墾を進めるために、743年に墾田永年私財法を定めた。8世紀の出来事として誤っているものを、1～4から一つ選び、番号で答えなさい。

1. 遣隋使が派遣された。
2. 国分寺が建立された。
3. 平安京に都が移された。
4. 和同開珎が鑄造された。

問3. 鎌倉時代に、土地を仲立ちとした御恩と奉公の関係をもとに、人や土地を支配する仕組みができた。御恩として、将軍は手柄のあった武士に領地を与えたり、役職につけたりした。諸国の軍事・警察を担う役職を、1～4から一つ選び、番号で答えなさい。

1. 国司      2. 郡司      3. 地頭      4. 守護

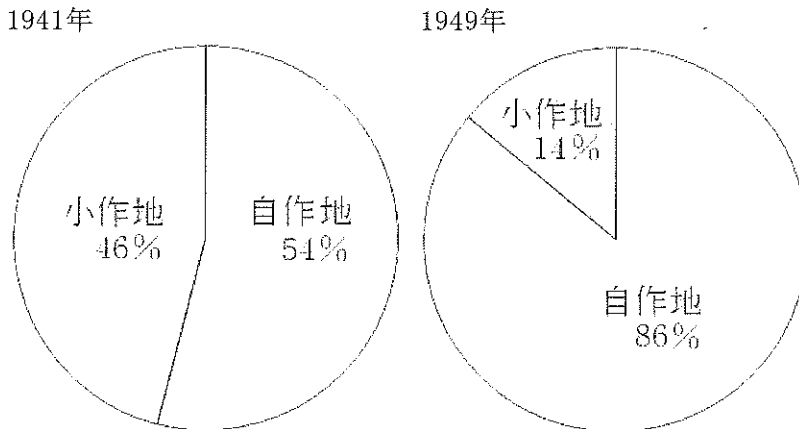
問4. 羽柴秀吉（後の豊臣秀吉）は、16世紀に、土地の生産力を米の量で算出した。秀吉の時代にとられた政策として誤っているものを、1～4から一つ選び、番号で答えなさい。

1. キリスト教宣教師の追放令を出した。
2. 日本橋を起点として五街道を整備した。
3. 百姓が刀や槍などの武器を持つことを禁止した。
4. 枴や物差しを統一した。

問5. 明治政府が行った、地租改正に関する説明として誤っているものを、1～4から一つ選び、番号で答えなさい。

1. 地租は米で政府に直接納めさせた。
2. 土地の値段の3%を地租とした。
3. 土地の持ち主には、地券を渡した。
4. 反対一揆が起こり、政府は地租を引き下げた。

記述1. 下のグラフによると、1941年から1949年の間に、土地を持たない小作農が、地主から土地を借りて耕作する小作地が減少する一方、土地を持つ自作農が耕作する自作地が大幅に増加している。自作農をふやすために政府が行ったことを、下の自作農創設特別措置法を参考に、解答欄の書き出しに続けて、20字以内で説明しなさい。ただし、句読点は、他の文字と一緒にせず、一ます使いなさい。なお、自作農創設特別措置法は、わかりやすく書き直してある。



(川越俊彦『戦後日本の農地改革』より作成)

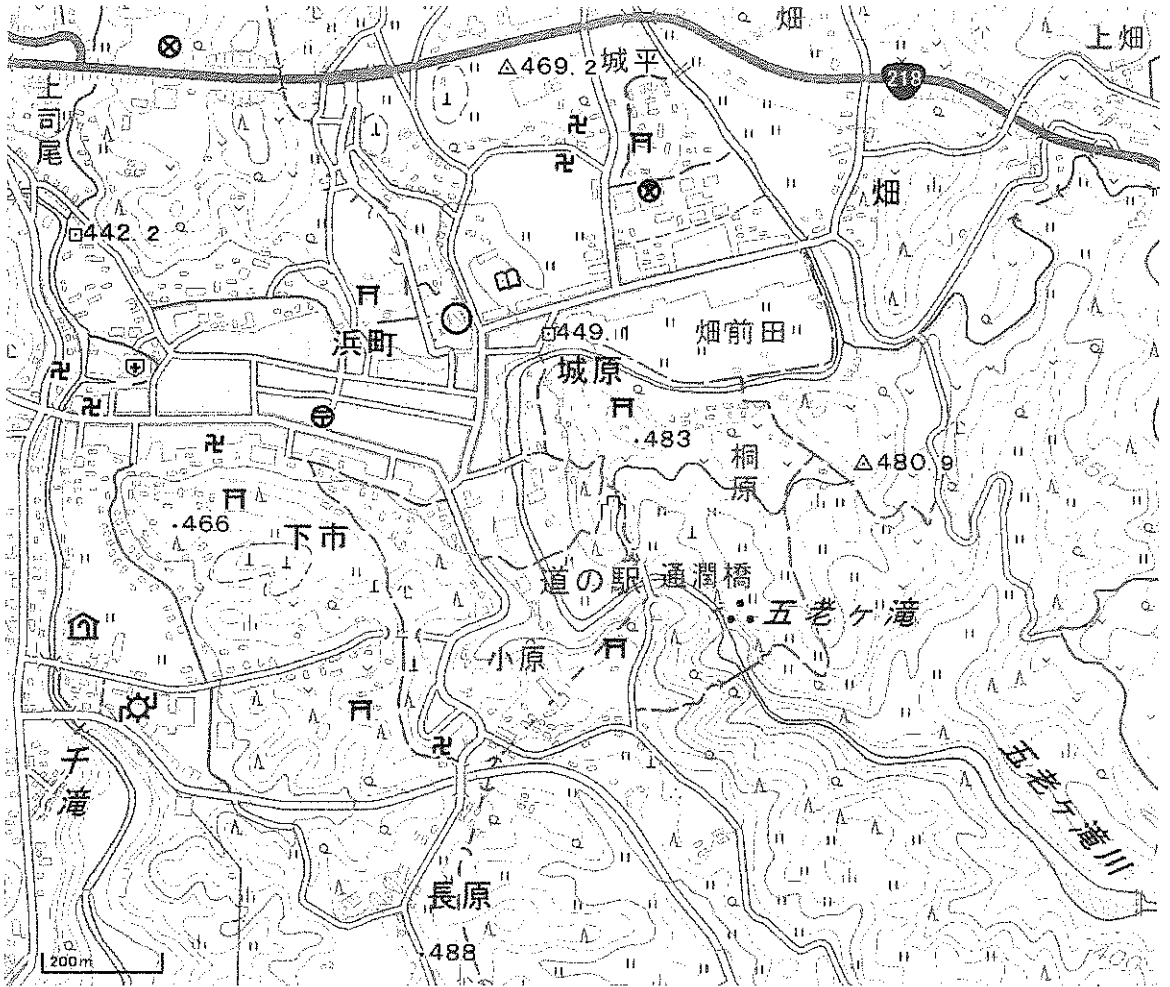
#### 自作農創設特別措置法 (1946年)

第3条 下に掲げる農地は、政府が、これを買収する。

- 1 農地の所有者がその住所のある市町村の区域外において所有する小作地
- 2 農地の所有者がその住所のある市町村の区域内において、北海道にあっては4町歩、都府県にあっては中央農地委員会が都府県別に定める面積を超える小作地を所有する場合、その面積を超える面積の当該区域内の小作地

第16条 政府は、第3条の規定により買収した農地及び政府の所有に属する農地で命令で定めるものを、命令の定めるところにより、その買収の時期において当該農地に就き耕作の業務を営む小作農その他命令で定める者で、自作農として農業に精進する見込のあるものに売り渡す。

2. 次の地形図を見て、問いに答えなさい。



(地理院地図より作成)

問6. 地図記号の説明について、次の文a、bの正誤の組み合わせとして正しいものを、1～4から一つ選び、番号で答えなさい。

- a. △は、人工衛星からの電波を受信して測量を行うための基準点である。  
 b. □は、正確な高さを求める測量を行うための基準点である。
1. a正 b正      2. a正 b誤  
 3. a誤 b正      4. a誤 b誤

問7. 地形図中から読み取れることとして正しいものを、1～4から一つ選び、番号で答えなさい。

1. 町村役場の南東には図書館がある。  
 2. 通潤橋の下を流れる川は城原から五老ヶ滝へ流れている。  
 3. 長原周辺には通潤橋から続く用水路の水を利用した畑が広がっている。  
 4. 老人ホームの南東には工場がある。

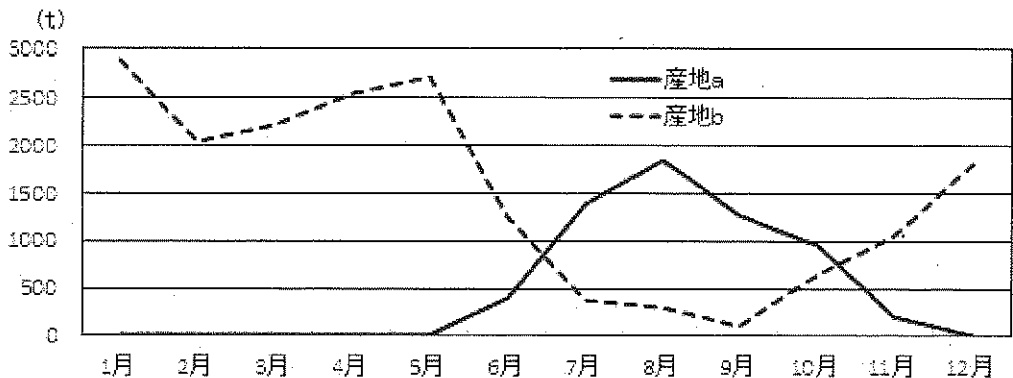
問8. 熊本県の都市や自然や産業についての説明として正しいものを、1～4から一つ選び、番号で答えなさい。

1. 阿蘇山の北にはシラス台地が広がり、畜産業が盛んである。
2. 阿蘇山の西にある熊本市は政令指定都市である。
3. 阿蘇山の南には、地熱を利用した八丁原発電所がある。
4. 阿蘇山を源流とする球磨川は四つの県を流れ、島原湾に注いでいる。

問9. 阿蘇地域はジオパークに認定されている。ジオパークに認定されている地域と都道府県の組み合わせとして正しいものを、1～4から一つ選び、番号で答えなさい。

1. 糸魚川－富山県
2. 隠岐－島根県
3. 島原半島－佐賀県
4. 室戸岬－愛媛県

問10. 下のグラフは、ある作物の東京都中央卸売市場における令和3年の産地別取扱実績をあらわしたものであり、産地aと産地bは熊本県か北海道のいずれかである。このグラフの説明として正しいものを、1～4から一つ選び、番号で答えなさい。



(東京都中央卸売市場「市場統計情報(年報)」より作成)

1. イグサの取扱実績を月別にあらわしたもので、aが熊本県、bが北海道である。
2. イグサの取扱実績を月別にあらわしたもので、aが北海道、bが熊本県である。
3. トマトの取扱実績を月別にあらわしたもので、aが熊本県、bが北海道である。
4. トマトの取扱実績を月別にあらわしたもので、aが北海道、bが熊本県である。

記述2. 九州地方はシリコンアイランドと呼ばれ、多くの半導体関連工場が空港の近くに立地している。半導体関連工場を地方空港の近くに建設するのは、土地や賃金が首都圏と比べて安く、高い輸送費に見合う収益が見込まれる上、輸送時間の短縮が期待できるからである。さらに、他の輸送手段と比べて輸送量が少ない航空輸送が選ばれる理由は、半導体の特徴からも考えられる。半導体の輸送手段の一つとして航空輸送が選ばれる理由を、半導体の重さや大きさに注目しながら、解答欄の書き出しに続けて、15字以内で説明しなさい。ただし、句読点は、他の文字と一緒にせず、一ます使いなさい。

### 3. 次の文章を読んで、問いに答えなさい。

「国民の祝日に関する法律」（以下「祝日法」と言う）は、7)1948年7月、第2回国会において制定されました。祝日法制定前は、年間計11の祝祭日が、勅令により休日とされていました。祭日とは4)皇室の祭典が行われる日を、祝日とは国及び国民一般の恒例の祝い日を言いました。

当時の5)内閣は、政令によってこれを改めることを考えました。しかし、国会から、国会において決めることが適当との意見が表明されました。そこで内閣は方針を撤回し、国会に法律づくりを委ねることにしました。

国会では、両院の文化委員会において、半年以上審議され、1948年7月5日に成立し、同年7月20日に公布・施行されました。祝日法制定時に「国民の祝日」とされたのは、6)元日（1月1日）、成人の日（1月15日）、春分の日（春分日）、天皇誕生日（4月29日）、憲法記念日（5月3日）、こどもの日（5月5日）、秋分の日（秋分日）、文化の日（11月3日）、勤労感謝の日（11月23日）でした。なお、その後、祝日法は議員立法による改正が重ねられ、七つの「国民の祝日」が順次追加されるなどした結果、今日では、計16日の「国民の祝日」が定められています。

問11. 下線部アを構成する院の組み合わせとして正しいものを、1～4から一つ選び、番号で答えなさい。

1. 貴族院と参議院
2. 貴族院と衆議院
3. 衆議院と参議院
4. 衆議院と枢密院

問12. 下線部イに関する説明として誤っているものを、1～4から一つ選び、番号で答えなさい。

1. 元始祭（1月3日）－天皇が皇位の元始を祝う儀式
2. 新年宴会（1月5日）－宮中で新年の祝賀として皇族、親任官、外国の大使などを招いて行われた儀式
3. 神武天皇祭（4月3日）－神武天皇が崩御した日とされる日で、皇霊殿で行われた儀式
4. 大正天皇祭（12月25日）－大正天皇が崩御した日を祭る日

問13. 下線部ウに関する説明として誤っているものを、1～4から一つ選び、番号で答えなさい。

1. 衆議院から不信任を受けることもある。
2. 条約を承認する。
3. 全員が文民でなければならない。
4. 天皇の国事行為に助言と承認を与える。

問14. 下線部エに関して、制定時と現在とでは名称が変更されている数として正しいものを、1～4から一つ選び、番号で答えなさい。

1. 一つ
2. 二つ
3. 三つ
4. 四つ

問15. 祝日法第3条2項では、「国民の祝日が日曜日に当たるときは、その日後においてその日に最も近い国民の祝日でない日を休日とする」と定められている。5月6日が休日にならない並びとして正しいものを、1～4の中から一つ選び、番号で答えなさい。

	5月3日 憲法記念日	5月4日 みどりの日	5月5日 こどもの日	5月6日
1	日曜日	月曜日	火曜日	水曜日
2	月曜日	火曜日	水曜日	木曜日
3	金曜日	土曜日	日曜日	月曜日
4	土曜日	日曜日	月曜日	火曜日

記述3. 成人の日は、祝日法制定当初は1月15日と決められていたが、1998年の法改正で、1月の第2月曜日と改められた。同改正で、敬老の日も、9月15日から9月の第3月曜日に、旧体育の日も、10月10日から10月の第2月曜日と改められた。このように改められた目的を、10字以内で答えなさい。ただし、句読点は、他の文字と一緒にせず、一ます使いなさい。

令和5年度 成城中学校  
 入学試験 解答用紙  
 社会 (第3回・30分)

※の欄には、何も書かないこと。

1

問1	問2	問3	問4	問5

記述1									
政府が、地主から									
									20

2

問6	問7	問8	問9	問10

記述2									
半導体は、									
									15

3

問11	問12	問13	問14	問15

※
---

記述3									
									10

※
---

受験番号				

座席番号			

※
---



令和5年度 成城中学校  
 入学試験 解答用紙  
 社会 (第3回・30分)

※の欄には、何も書かないこと。

1

問1	問2	問3	問4	問5
1	1	4	2	1

各3点

記述1

政府が、地主から									
土	地	を	買	い	取	り	、	小	作
農	に	売	り	渡	し	た	。		

5点

20

2

問6	問7	問8	問9	問10
3	2	2	2	4

各3点

記述2

半導体は、									
軽	く	て	小	さ	い	た	め	。	

5点

15

3

問11	問12	問13	問14	問15
3	2	2	1	2

各3点

記述3

連休をふやすため。									

5点

10

受験番号				

座席番号			

※
---